





गाँउको नाम		
सर्वेक्षणकर्ताको नाम	१.	२.



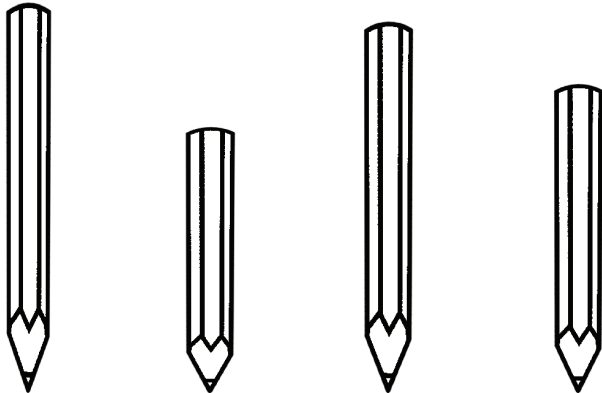
प्र.नं.१ कुन विरालो बाकसको भित्र बसेको छ ?



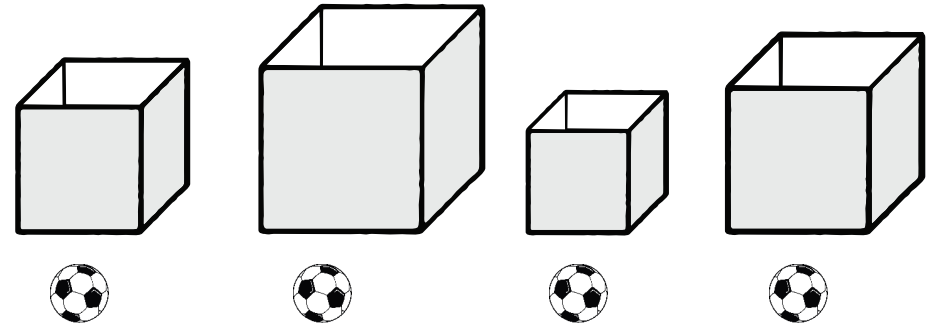
प्र.नं.२ यो चित्रमा, रुखदेखि सबैभन्दा टाढा कुन बच्चा छ ?



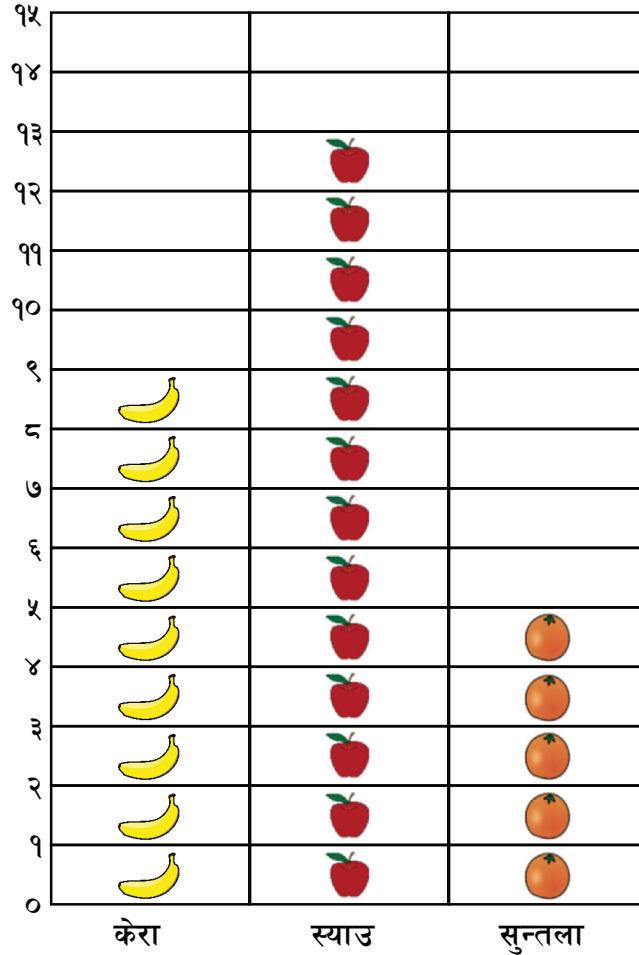
प्र.नं.३ यो चित्रमा, सबैभन्दा छोटो सिसाकलम कुन हो?



प्र.नं.४ यहाँ ४ ओटै बलहरु समान आकारका छन् । प्रत्येक बलको अगाडी राखिएको बाकसलाई हेर । यदि प्रत्येक बाकसलाई तिनिहरुको अगाडी राखिएका बलहरुले पुरै भर्ने हो भने, सबै भन्दा धेरै बलको संख्या कुन बाकसमा हुन्छ?



तल दिईएको चार्टलाई राम्ररी हेर




प्र.नं.५. स्याउहरु कति ओटा छन्?


प्र.नं.६. सुन्तलाको संख्या भन्दा केराको संख्या कतिले धेरै छन् ?

यो घडीमा कति बज्यो?

प्र.नं.७.



प्र.नं.८.



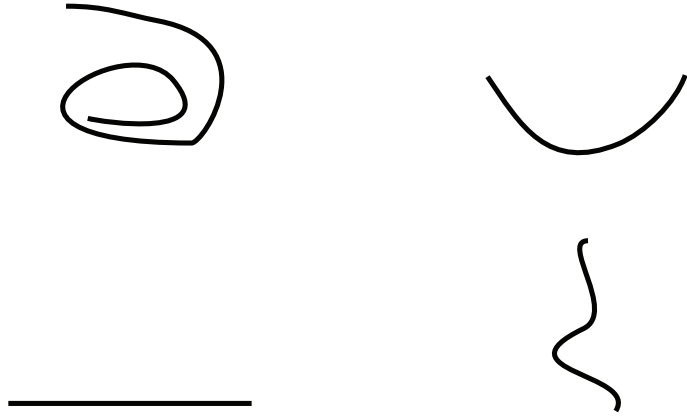
तल दिईएको भित्तेपात्रोलाई हेर

चैत्र २०७६						
आइतबार	सोमबार	मंगलबार	बुधबार	विहिवार	शुक्रबार	शनिबार
					१	२
३	४	५	६	७	८	९
१०	११	१२	१३	१४	१५	१६
१७	१८	१९	२०	२१	२२	२३
२४	२५	२६	२७	२८	२९	३०
३१						

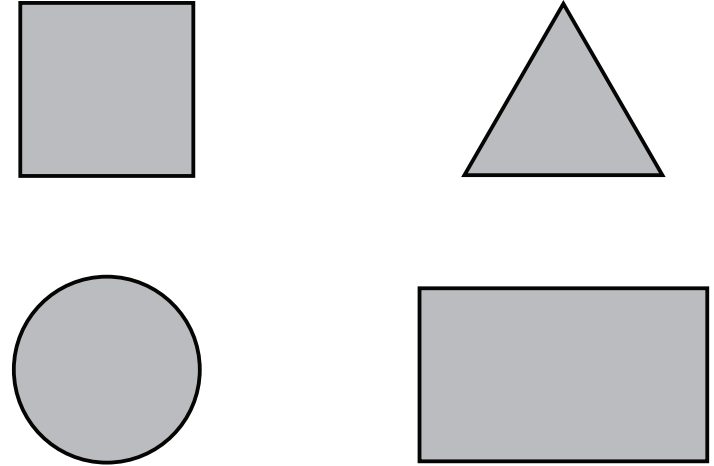
प्र.नं.९. चैत्र ५ गते कुन वार पर्छ ?

प्र.नं.१०. चैत्र महिनाको दोस्रो सोमबार कति गते पर्छ ?


प्र.नं.११. यीनिहरु मध्ये सीधा रेखा कुन हो ?



प्र.नं.१२. यहाँ दिईएको आकारहरुलाई हेर । यीनिहरु मध्ये त्रिभुज कुन हो?



प्र.नं.१३. यहाँ कति ओटा चराहरु छन् । मिले अंक छान ।



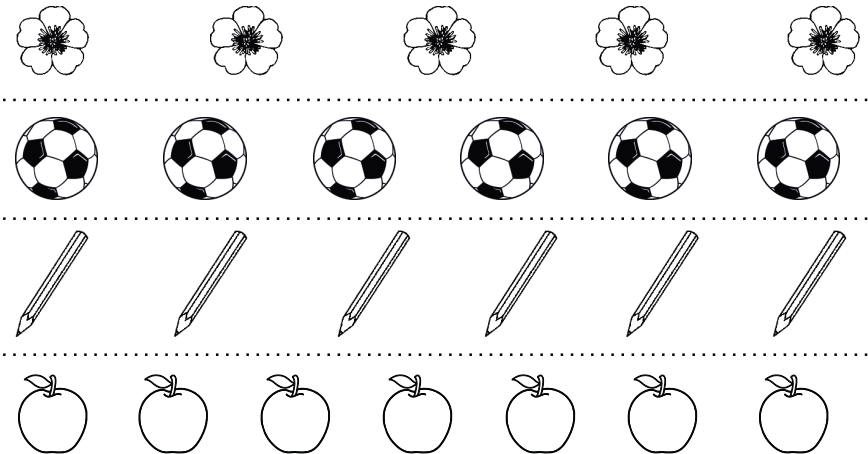
३

५

९

४

प्र.नं.१४. यहाँ वस्तुहरुको ४ ओटा समुहहरु दिईएको छ । तिनिहरुलाई राम्ररी हेर । कुन समुहमा वस्तुहरुको संख्या सबैभन्दा धेरै छ ?



**SET 2**

प्र.नं.१५. अंकहरु चिन

३	२
०	९
५	

५ ओटा मध्ये कम्तीमा पनि ४ ओटा जवाफ सहि हुनु पर्नेछ

दिईएका प्रश्नहरु समाधान गर

प्र.नं.१६.

$$\begin{array}{r} ३२ \\ + १५ \\ \hline \\ \hline \end{array}$$

प्र.नं.१७.

$$\begin{array}{r} ४६ \\ - २९ \\ \hline \\ \hline \end{array}$$

प्र.नं.१८.

$$२ \times ४ =$$

प्र.नं.१९.

$$९ \div ३ =$$

**SET 3**

प्र.नं.२०. अंकहरु चिन

४८	२२
९७	३०
८४	

५ ओटा मध्ये कम्तीमा पनि ४ ओटा जवाफ सहि हुनु पर्नेछ

दिईएका प्रश्नहरु समाधान गर

प्र.नं.२१.

$$\begin{array}{r} ५६ \\ + १७ \\ \hline \\ \hline \end{array}$$

प्र.नं.२२.

$$\begin{array}{r} ७८ \\ - २९ \\ \hline \\ \hline \end{array}$$

प्र.नं.२३.

$$\begin{array}{r} ४२ \\ \times ६ \\ \hline \\ \hline \end{array}$$

प्र.नं.२४.

$$७ \overline{) ९३}$$

प्र.नं.२५. प्रश्नलाई ध्यान दिएर सुन, समाधान गर र उत्तर देउ .

कुनै एउटा पार्कमा ४३ जना केटाकेटीहरु थिए । तिनिहरुमध्ये, २५ जना घर गए । अब पार्कमा कति जना केटाकेटीहरु बाँकि छन् ।

प्र.नं.२६. प्रश्नलाई ध्यान दिएर सुन, समाधान गर र उत्तर देउ

एउटा पसलेसंग ४८ ओटा स्याउहरु छन् । उस्ले ३ ओटा स्याउलाई एउटा बाकसमा राख्दछ । पसलेलाई सबै स्याउहरु राख्न कति ओटा त्यस्ता बाकसहरु चाहिन्छ ।

**SET 2**
**Q15** Recognize numbers.

3		2
	8	
0		9

At least 4 out of 5 numbers must be correct

Solve the following questions.

**Q16**

$$\begin{array}{r} 32 \\ + 15 \\ \hline \\ \hline \end{array}$$

**Q17**

$$\begin{array}{r} 46 \\ - 21 \\ \hline \\ \hline \end{array}$$

**Q18**

$2 \times 4 =$

**Q19**

$9 \div 3 =$

**SET 3**
**Q20** Recognize numbers.

48		22
	84	
97		30

At least 4 out of 5 numbers must be correct

Solve the following questions.

**Q21**

$$\begin{array}{r} 56 \\ + 17 \\ \hline \\ \hline \end{array}$$

**Q22**

$$\begin{array}{r} 78 \\ - 29 \\ \hline \\ \hline \end{array}$$

**Q23**

$$\begin{array}{r} 42 \\ \times 6 \\ \hline \\ \hline \end{array}$$

**Q24**

$$7 \overline{)93}$$


**Q25** Listen to the question carefully, solve and answer.

There were 43 children in the park. Out of these, 25 of them have gone home. How many children are left in the park now?


**Q26** Listen to the question carefully, solve and answer.

A shopkeeper has 48 apples. He keeps 3 apples in each box. How many such boxes will he need to keep all the apples?

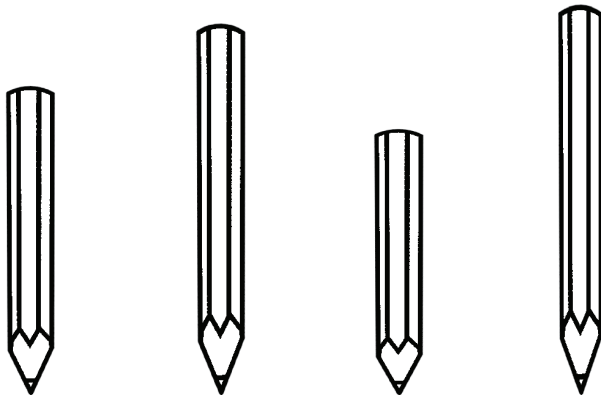
प्र.नं.१. कुन कुकुर बाकसको भित्र बसेको छ ?



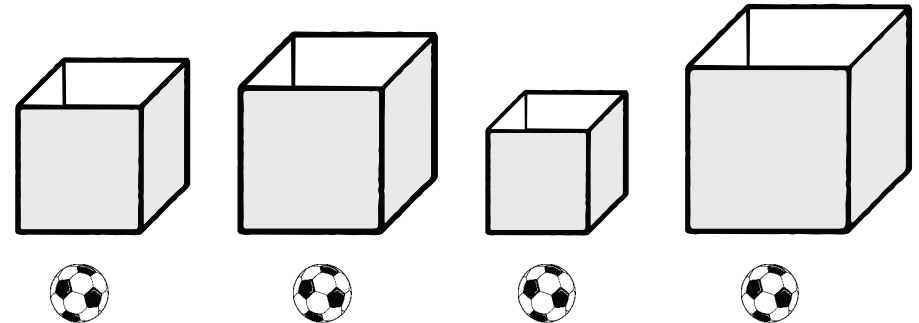
प्र.नं.२. यो चित्रमा, रुखदेखि सबैभन्दा टाढा कुन बच्चा छ ?



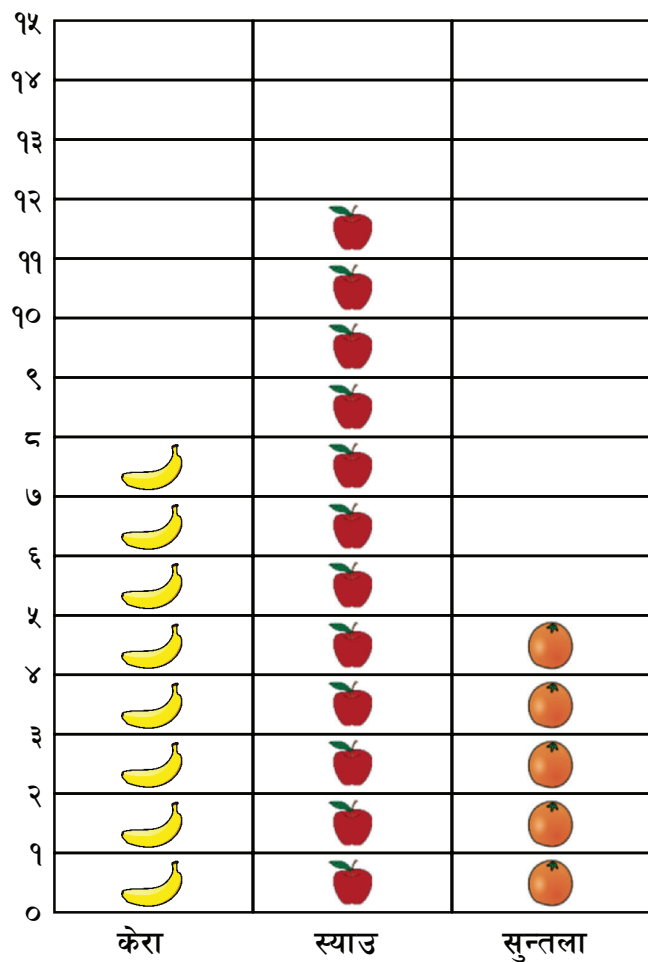
प्र.नं.३. यो चित्रमा, सबैभन्दा छोटो सिसाकलम कुन हो ?



प्र.नं.४. यहाँ ४ ओटै बलहरु समान आकारका छन् । प्रत्येक बलको अगाडी राखिएको बाकसलाई हेर । यदि प्रत्येक बाकसलाई तिनैहरुको अगाडी राखिएका बलहरुले पुरै भर्ने हो भने, सबै भन्दा धेरै बलको संख्या कुन बाकसमा हुन्छ ?



तल दिईएको चार्टलाई राम्ररी हेर .




प्र.नं.५. स्याउहरु कति ओटा छन्?

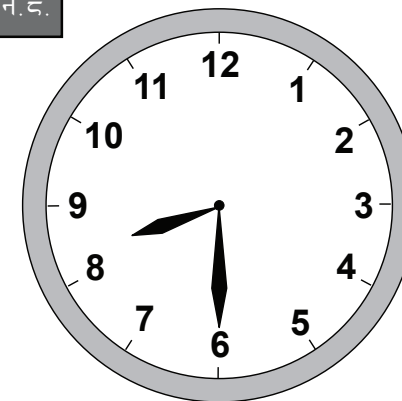
प्र.नं.६. सुन्तलाको संख्या भन्दा केराको संख्या कतिले धेरै छन् ?

यो घडीमा कति बज्यो?

प्र.नं.७.



प्र.नं.८.



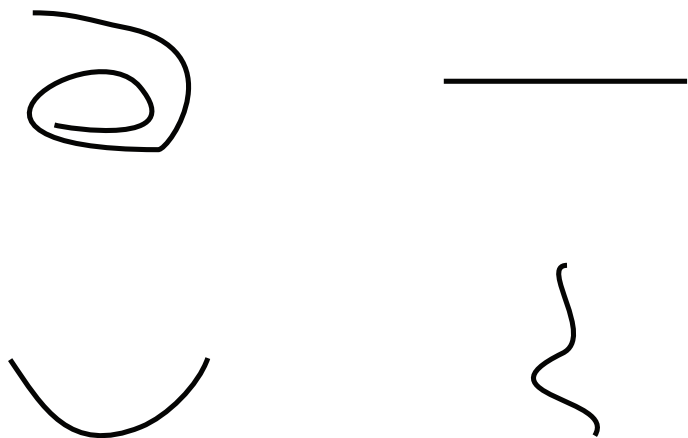
तल दिईएको भित्तेपात्रोलाई हेर .

चैत्र २०७६						
आइतबार	सोमबार	मंगलबार	बुधबार	विहिवार	शुक्रबार	शनिबार
					१	२
३	४	५	६	७	८	९
१०	११	१२	१३	१४	१५	१६
१७	१८	१९	२०	२१	२२	२३
२४	२५	२६	२७	२८	२९	३०
३१						

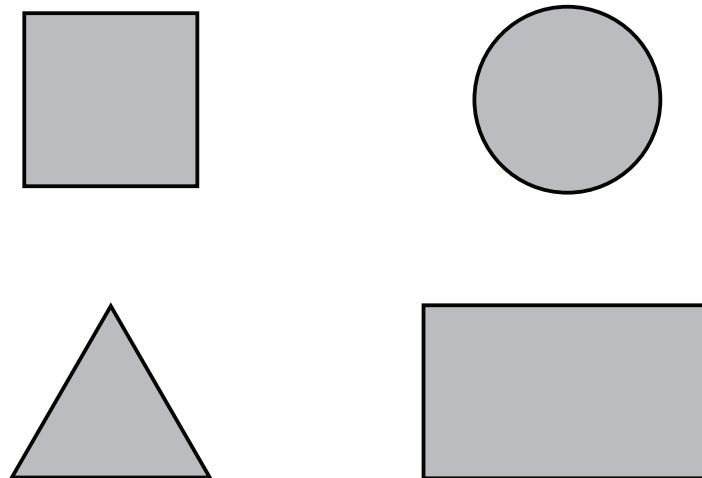
प्र.नं.९. चैत्र ४ गते कुन वार पर्छ ?

प्र.नं.१०. चैत्र महिनाको दोस्रो बुधवार कति गते पर्छ ?


प्र.नं.११. यीनिहरु मध्ये सीधा रेखा कुन हो ?



प्र.नं.१२. यहाँ दिईएको आकारहरुलाई हेर । यीनिहरु मध्ये त्रिभुज कुन हो?



प्र.नं.१३. यहाँ कति ओटा चराहरु छन् । मिल्ने अंक छान ।



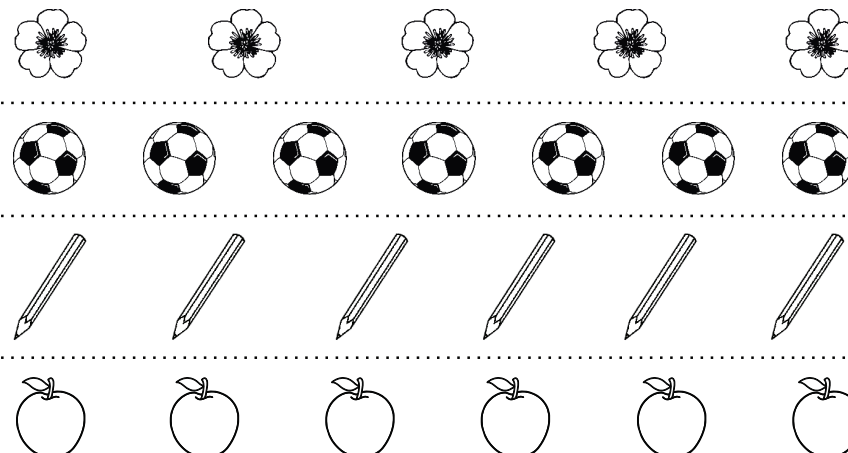
१

५

६

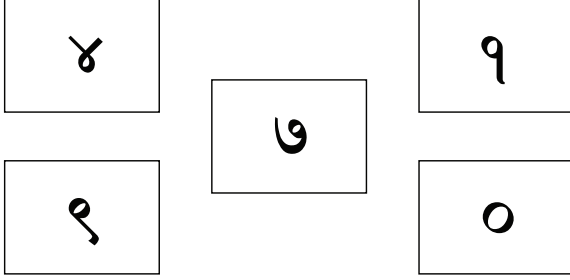
४

प्र.नं.१४. यहाँ ४ ओटा वस्तुहरुको समुहहरु दिईएको छ । तिनिहरुलाई ध्यान दिएर हेर । कुन समुहमा वस्तुहरुको संख्या सबैभन्दा धेरै छ ?



SET 2

प्र.नं.१५. अंकहरु चिन



५ ओटा मध्ये कम्तीमा पनि ४ ओटा जवाफ सहि हुनु पर्नेछ

दिईएका प्रश्नहरु समाधान गर

प्र.नं.१६.

$$\begin{array}{r} ३४ \\ + १५ \\ \hline \\ \hline \end{array}$$

प्र.नं.१७.

$$\begin{array}{r} ४७ \\ - २३ \\ \hline \\ \hline \end{array}$$

प्र.नं.१८.

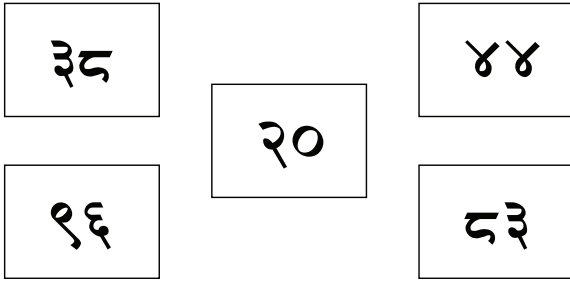
$$३ \times २ =$$

प्र.नं.१९.

$$८ \div ४ =$$

SET 3

प्र.नं.२०. अंकहरु चिन



५ ओटा मध्ये कम्तीमा पनि ४ ओटा जवाफ सहि हुनु पर्नेछ

दिईएका प्रश्नहरु समाधान गर

प्र.नं.२१.

$$\begin{array}{r} ५७ \\ + १८ \\ \hline \\ \hline \end{array}$$

प्र.नं.२२.

$$\begin{array}{r} ७८ \\ - ४९ \\ \hline \\ \hline \end{array}$$

प्र.नं.२३.

$$\begin{array}{r} ३२ \\ \times ७ \\ \hline \\ \hline \end{array}$$

प्र.नं.२४.

$$६ \overline{) ९९}$$

प्र.नं.२५. प्रश्नलाई ध्यान दिएर सुन, समाधान गर र उत्तर देउ

कुनै एउटा विद्यालयमा ४१ जना विद्यार्थीहरु थिए । तिनिहरुमध्ये २४ जना घर गए । अब विद्यालयमा कति जना विद्यार्थीहरु बाँकि छन् ।

प्र.नं.२६. प्रश्नलाई ध्यान दिएर सुन, समाधान गर र उत्तर देउ

एउटा पसलेसंग ४२ ओटा फूलहरु छन् । उस्ले ३ ओटा फूललाई एउटा बास्केटमा राख्दछ । पसलेलाई सबै फूलहरु राख्न कति ओटा त्यस्ता बास्केटहरु चाहिन्छ ।

**Q15** Recognize numbers.

4	7	1
9	0	0

At least 4 out of 5 numbers must be correct

Solve the following questions.

**Q16**

$$\begin{array}{r} 34 \\ + 15 \\ \hline \\ \hline \end{array}$$

**Q17**

$$\begin{array}{r} 47 \\ - 23 \\ \hline \\ \hline \end{array}$$

**Q18**

$3 \times 2 =$

**Q19**

$8 \div 4 =$

**Q20** Recognize numbers.

38	20	44
96	83	83

At least 4 out of 5 numbers must be correct

Solve the following questions.

**Q21**

$$\begin{array}{r} 57 \\ + 18 \\ \hline \\ \hline \end{array}$$

**Q22**

$$\begin{array}{r} 78 \\ - 49 \\ \hline \\ \hline \end{array}$$

**Q23**

$$\begin{array}{r} 32 \\ \times 7 \\ \hline \\ \hline \end{array}$$

**Q24**

$$6 \overline{)91}$$

**Q25** Listen to the question carefully, solve and answer.

There were 41 children in the school. Out of these, 24 of them have gone home. How many children are left in the school now?

**Q26** Listen to the question carefully, solve and answer.

A shopkeeper has 42 flowers. He keeps 3 flowers in each basket. How many such baskets will he need to keep all the flowers?





**PAL NETWORK**  
People's Action for Learning

